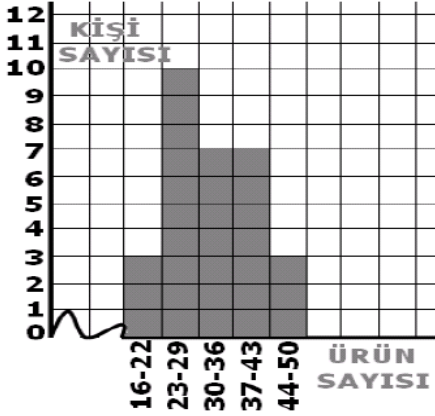


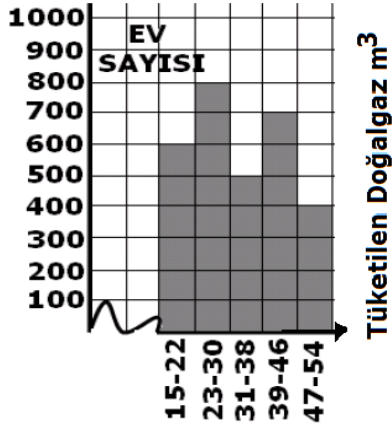
OKUL KERMESİ



1) Yandaki histogramda Bir okuldaki kermeste öğrencilerin bir günde sattığı ürün miktarını göstermektedir. Bu veri grubunun grup genişliği kaçtır?

- a)4 b)6 c)5 d)7

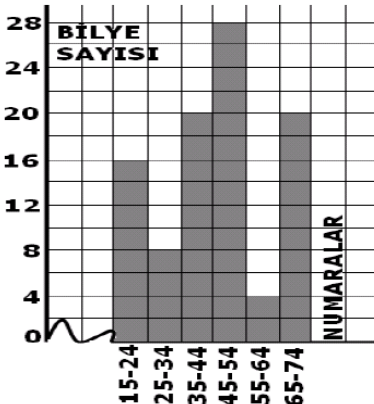
TÜKETİLEN DOĞALGAZ MİKTARI



2) Yandaki histogram da Bir sitedeki dairelerin bir haftada tükettiği doğal gaz miktarını göstermektedir. Bu veri grubunun grup genişliği kaçtır?

- a)10 b)4 c)8 d)6

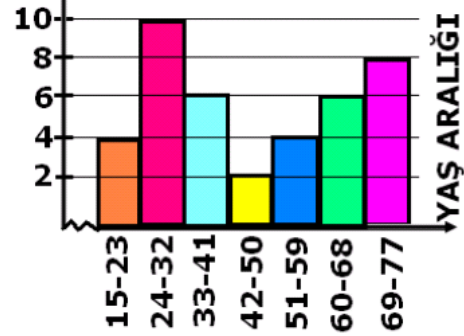
BİR TORBADA BULUNAN BİLYE SAYISI.



3) Yandaki histogramda Bir torbada ki 15'den 74'e kadar numaralandırılmış bilyelerin sayısını göstermektedir. Bu veri grubunun grup genişliği kaçtır?

- a)10 b)8 c)12 d)14

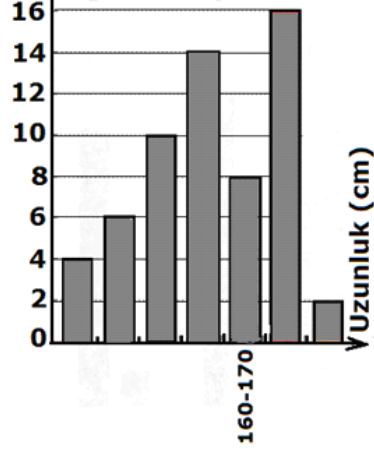
KİŞİ SAYISI



4) Yandaki histogram bir hastaneye aynı gün başvuran kişilerin yaşlarına göre hazırlanmıştır. Bu veri grubunun grup genişliği kaçtır?

- a)8 b)9 c)10 d)11

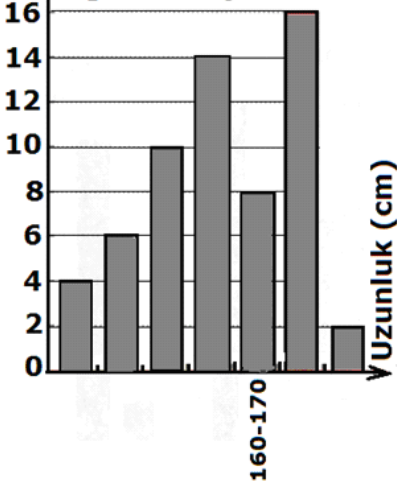
Öğrenci sayısı



5) Yandaki grafik bir sınıftaki öğrencilerin boy uzunluklarını göstermektedir. Buna göre; bu histogramın grup genişliği kaçtır?

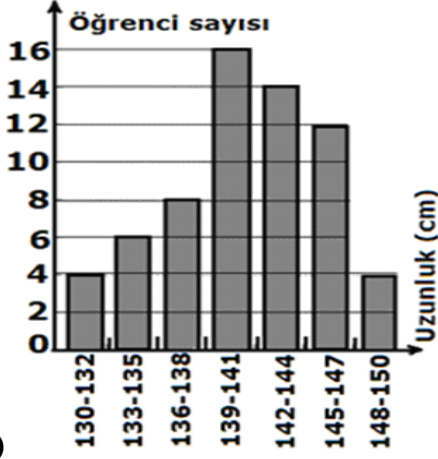
- a)11 b)9 c)10 d)12

Öğrenci sayısı



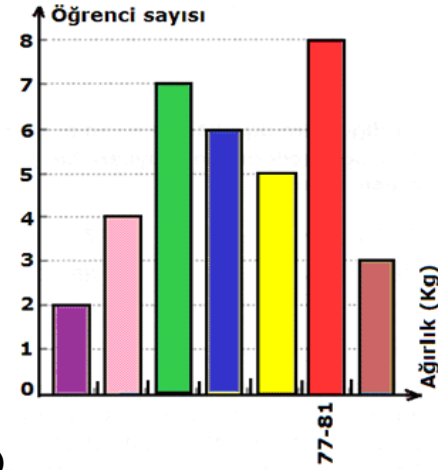
6) Yandaki grafik bir sınıftaki öğrencilerin boy uzunluklarını göstermektedir. Buna göre; bu sınıfta 138-148 aralığında olan kaç öğrenci vardır?

- a)11 b)9 c)10 d)12



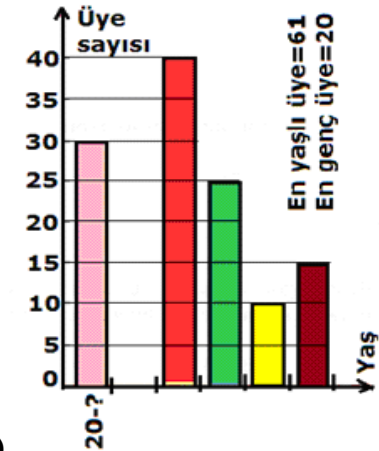
7) Yandaki grafik bir sınıftaki öğrencilerin boy uzunluklarını cm olarak göstermektedir. Buna göre; bu histogramın grup genişliği kaçtır?

- a)10 b)4 c)2 d)3



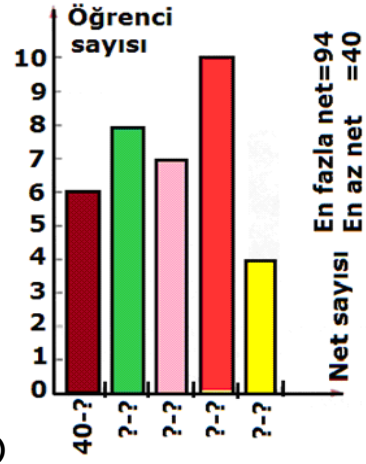
8) Yandaki grafik bir sınıftaki öğrencilerin ağırlıklarını kg olarak göstermektedir. Buna göre; bu histogramın grup genişliği kaçtır?

- a)4 b)7 c)5 d)6



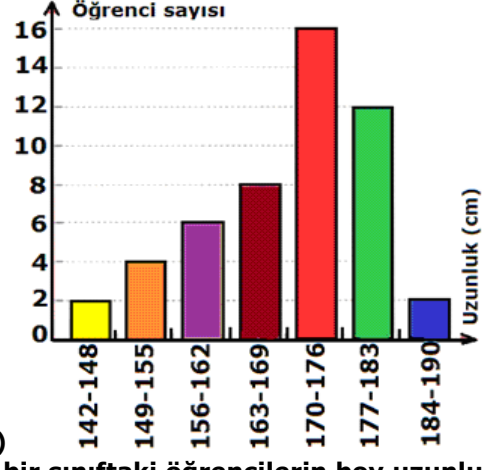
9) Yandaki grafik bir derneğe üye olan kişilerin yaşlarını ve sayılarını göstermektedir. Buna göre; bu histogramın grup genişliği kaçtır?

- a)6 b)7 c)8 d)9



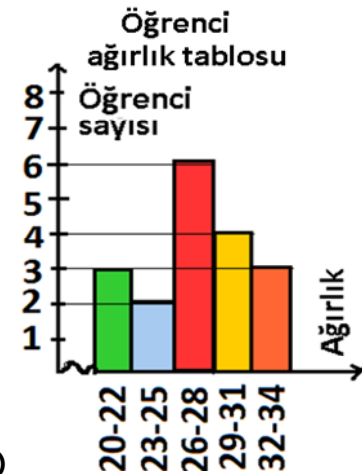
10) Bir sınıftaki öğrencilerin katıldıkları deneme sınavı sonuçlarını gösteren histogram yanda verilmiştir. Buna göre; bu histogramın grup genişliği kaçtır?

- a)7 b)9 c)11 d)13



11) Yandaki grafik bir sınıftaki öğrencilerin boy uzunluklarını cm olarak göstermektedir. Buna göre; bu histogramın grup genişliği kaçtır?

- a)6 b)7 c)8 d)9



12) Yandaki grafik bir sınıftaki öğrencilerin ağırlıklarını göstermektedir. Buna göre; bu histogramın grup genişliği kaçtır?

- a)5 b)4 c)3 d)2